


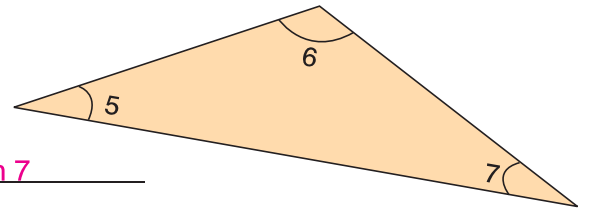
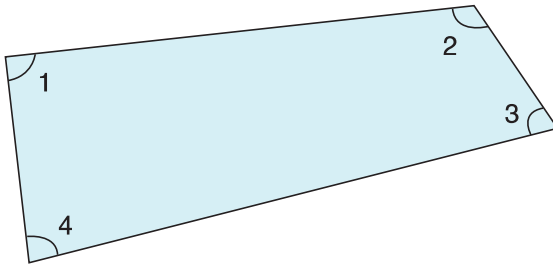


1 Benoem als rechte of scherpe of stompe hoek.



- Hoek 1 is een scherpe hoek.
- Hoek 2 is een stompe hoek.
- Hoek 3 is een scherpe hoek.
- Hoek 4 is een scherpe hoek.
- Hoek 5 is een rechte hoek.

2 Vul de nummers in.



- scherpe hoek(en): nummer(s) 3 en 4 en 5 en 7
- rechte hoek(en): nummer(s) 1
- stompe hoek(en): nummer(s) 2 en 6

3 Teken de gevraagde hoeken.

een rechte hoek

een scherpe hoek

een stompe hoek

bv.

