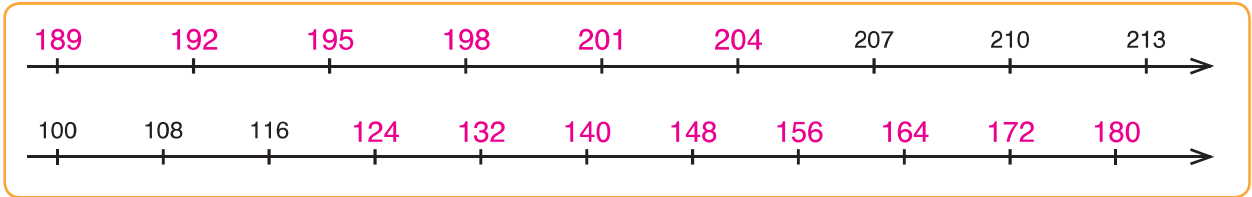
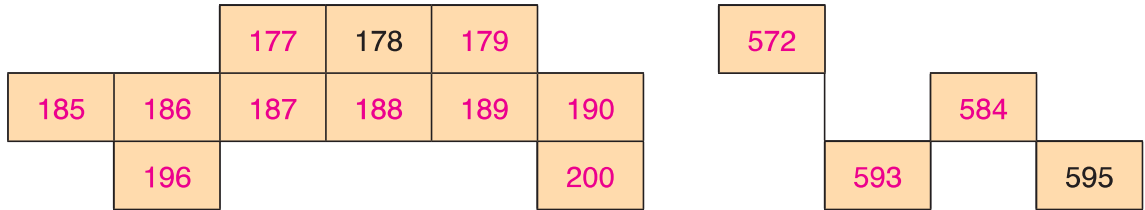




1 Vul de getallenassen aan op de stippen.



2 Vul de stukken van de honderdvelden volledig in.



3 Lees en vul in.

Het grootste getal van drie cijfers is .
 Het kleinste getal van drie cijfers is .
 Het grootste getal van drie verschillende cijfers is .
 Het kleinste getal van drie verschillende cijfers is .

4 Zoek eerst het patroon en zet het dan verder.

150	175	200	225	250	275	300	325	350	375	400
1000	960	920	880	840	800	760	720	680	640	600
400	450	420	470	440	490	460	510	480	530	500

5 Lees en vul aan.

Sibbe gaat met Doren naar het wijkfeest.
 Hij belt hem op nummer 012 34 56 78. Ze spreken af om 14 uur.
 Eerst kijken ze een half uur naar de fanfarestoet.
 Daarna nemen ze met 12 andere kinderen deel aan het zaklopen.
 Sibbe eindigt op de vierde plaats.

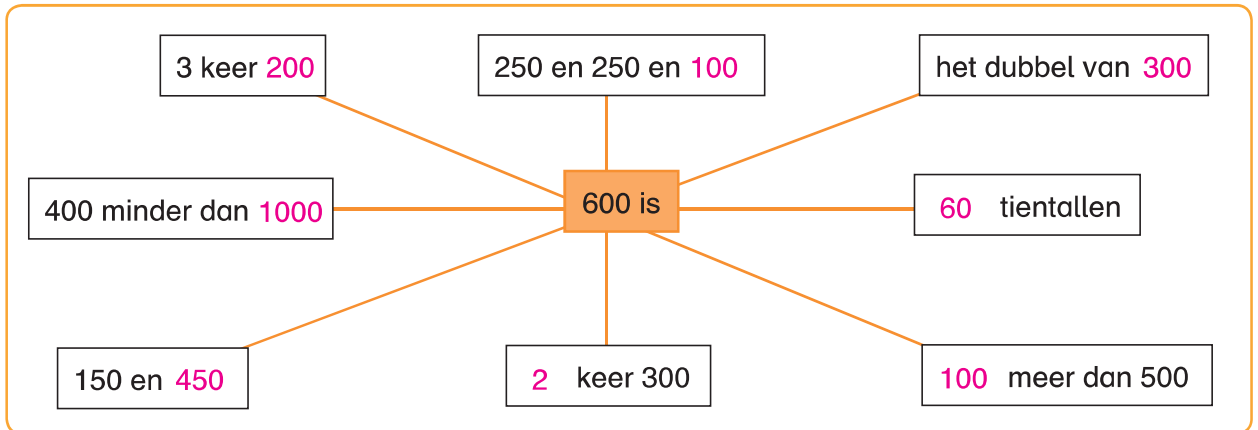
Het getal zegt iets over
 een rangorde: vierde .
 een code: 012 34 56 78 .





6

Vul de spin aan.



7

Lees en los op.

De helft van 500 is 250.

250 meer dan 500 is 750.

8 keer 40 is 320.

Het dubbel van 400 is 800.

700 minder dan 1000 is 300.

7 keer 50 is 350.

8

Rond af naar het dichtstbijzijnde tiental.

73 → 70

138 → 140

697 → 700

285 → 290

9

Rond af naar het dichtstbijzijnde honderdtal.

73 → 100

138 → 100

697 → 700

985 → 1000

10

Trek een streep door de oneven getallen.

~~69~~

96

710

~~887~~

~~555~~

994

108

11

Kijk, lees en vul aan.

-2 -1 0 1 2 3 4 5 6 7

Anja parkeert haar auto in de tweede kelderverdieping.

Ze werkt op de vijfde verdieping.

Ze neemt de lift van -2 naar 5. Ze stijgt dus 7 verdiepingen.

12

Lees en vul aan.

Niels koopt een petanquespel voor € 19,80.

Hij betaalt met een biljet van 20 euro en krijgt dus 20 cent terug.

